






Palier ① | **Compétence ③**
 Organisation et gestion
 des données

- ➔ Utiliser un tableau, un graphique.
- ➔ Organiser les données d'un énoncé.

Pour se rendre à l'école, cinq cars effectuent le transport des élèves.
 Dans la classe de CP, les enfants sont inscrits dans les cars suivants :

Car 1 	Car 2 	Car 3 	Car 4 	Car 5 
Hugo	Jade	Lisa	Paul	Marie
Jean	Sarah	Rémi	Julien	Léo
Léa	Mathis		Louis	
Théo			Nina	

Coche vrai ou faux.

1. Lisa prend le car 3. vrai faux
2. Hugo prend le car 5. vrai faux
3. Mathis prend le car 2. vrai faux
4. Nina prend le car avec Léa. vrai faux
5. Lisa prend le car avec Rémi. vrai faux
6. Jade, Sarah et Rémi prennent le même car. vrai faux
7. Le car 2 transporte 3 enfants de CP. vrai faux
8. Le car 5 transporte 2 enfants de CP. vrai faux
9. En tout 15 enfants de CP prennent le car. vrai faux