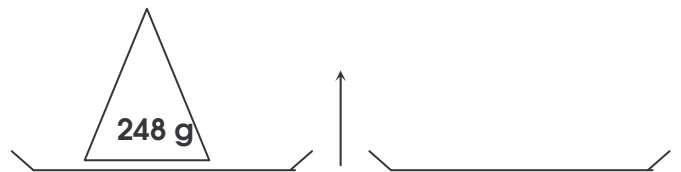
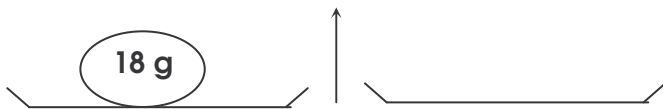
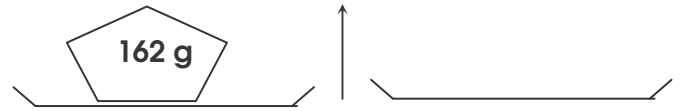
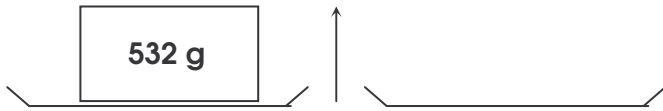
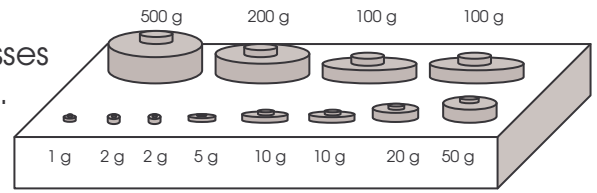


	Masses	Utiliser une balance	5
---	---------------	-----------------------------	----------

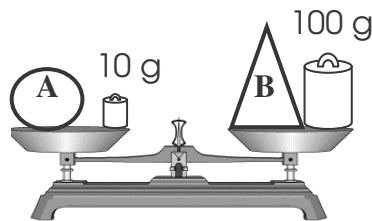
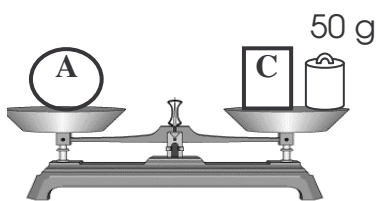
- Dessine sur chacune des balances les masses marquées qu'il faut utiliser pour peser chaque objet.



- Coche les masses dont tu as besoin pour obtenir l'équilibre.

	500 g	200 g	200 g	100 g	50 g	20 g	10 g	10 g	5 g	2 g	2 g	1 g
645 g	x			x		x	x	x	x			
123 g												
752 g												
990 g												
842 g												

- Range du plus lourd au plus léger les trois objets A, B, C.



_____ > _____ > _____

- Complète.

1kg 250g ⇒ g

3kg 20g ⇒ g

4kg 750g ⇒ g

7582 g ⇒ kg et g

9025 g ⇒ kg et g

7008 g ⇒ kg et g

85970 g ⇒ kg et g

132780 g ⇒ kg et g