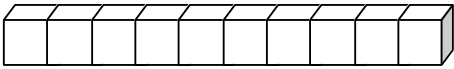
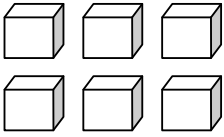


3..2...1...0 Les nombres de 0 à 16

16 **seize**  

1. Colorie le nombre de cases indiqué.

| | | | | | | |
|-----------|-----------|-----------|-----------|-----------|-----------|-----------|
| 15 | 10 | 16 | 13 | 12 | 11 | 14 |
| ↓ | ↓ | ↓ | ↓ | ↓ | ↓ | ↓ |
| | | | | | | |
| | | | | | | |
| | | | | | | |
| | | | | | | |
| | | | | | | |
| | | | | | | |
| | | | | | | |
| | | | | | | |
| | | | | | | |
| | | | | | | |
| | | | | | | |
| | | | | | | |
| | | | | | | |
| | | | | | | |
| | | | | | | |
| | | | | | | |
| | | | | | | |


2. Complète le tableau.

| avant | le nombre | après |
|-------|-----------|-------|
| | 13 | |
| | 15 | |
| | 11 | |
| | 9 | |


3. Complète.

| | | | | | | | | | | | | | | |
|---|--|--|--|--|---|--|--|--|--|----|--|--|--|--|
| 1 | | | | | 5 | | | | | 10 | | | | |
|---|--|--|--|--|---|--|--|--|--|----|--|--|--|--|


4. Complète.




$$\boxed{10} + \boxed{3} = \boxed{13}$$




$$\boxed{} + \boxed{} = \boxed{}$$




$$\boxed{} + \boxed{} = \boxed{}$$



$$\boxed{} + \boxed{} = \boxed{}$$



$$\boxed{} + \boxed{} = \boxed{}$$



$$\boxed{} + \boxed{} = \boxed{}$$

5. Relie.

$\boxed{10}$ •

• $\boxed{10 + 6}$

$\boxed{14}$ •

• $\boxed{10 + 1}$

$\boxed{16}$ •

• $\boxed{10 + 0}$

$\boxed{11}$ •

• $\boxed{10 + 4}$

$\boxed{12}$ •

• $\boxed{10 + 2}$

6. Ecris le nombre en lettres.



seize -