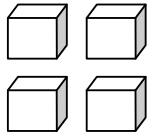
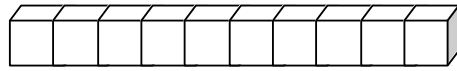


## Les nombres de 0 à 14

14

quatorze



1. Dénombrer chaque collection.

|  |  |  |  |  |
|--|--|--|--|--|
|  |  |  |  |  |
|  |  |  |  |  |

2. Complète chaque collection.

|    |    |    |   |    |
|----|----|----|---|----|
|    |    |    |   |    |
| 10 | 14 | 13 | 9 | 11 |

3. Ecris les nombres qui manquent.

|   |  |   |  |  |  |  |   |  |  |  |  |  |
|---|--|---|--|--|--|--|---|--|--|--|--|--|
| 1 |  | 3 |  |  |  |  | 8 |  |  |  |  |  |
|---|--|---|--|--|--|--|---|--|--|--|--|--|

4. Colorie les cases.

13

|  |  |  |  |  |  |  |  |  |  |  |  |  |  |  |
|--|--|--|--|--|--|--|--|--|--|--|--|--|--|--|
|  |  |  |  |  |  |  |  |  |  |  |  |  |  |  |
|--|--|--|--|--|--|--|--|--|--|--|--|--|--|--|

11

|  |  |  |  |  |  |  |  |  |  |  |  |  |  |  |
|--|--|--|--|--|--|--|--|--|--|--|--|--|--|--|
|  |  |  |  |  |  |  |  |  |  |  |  |  |  |  |
|--|--|--|--|--|--|--|--|--|--|--|--|--|--|--|

14

|  |  |  |  |  |  |  |  |  |  |  |  |  |  |  |
|--|--|--|--|--|--|--|--|--|--|--|--|--|--|--|
|  |  |  |  |  |  |  |  |  |  |  |  |  |  |  |
|--|--|--|--|--|--|--|--|--|--|--|--|--|--|--|

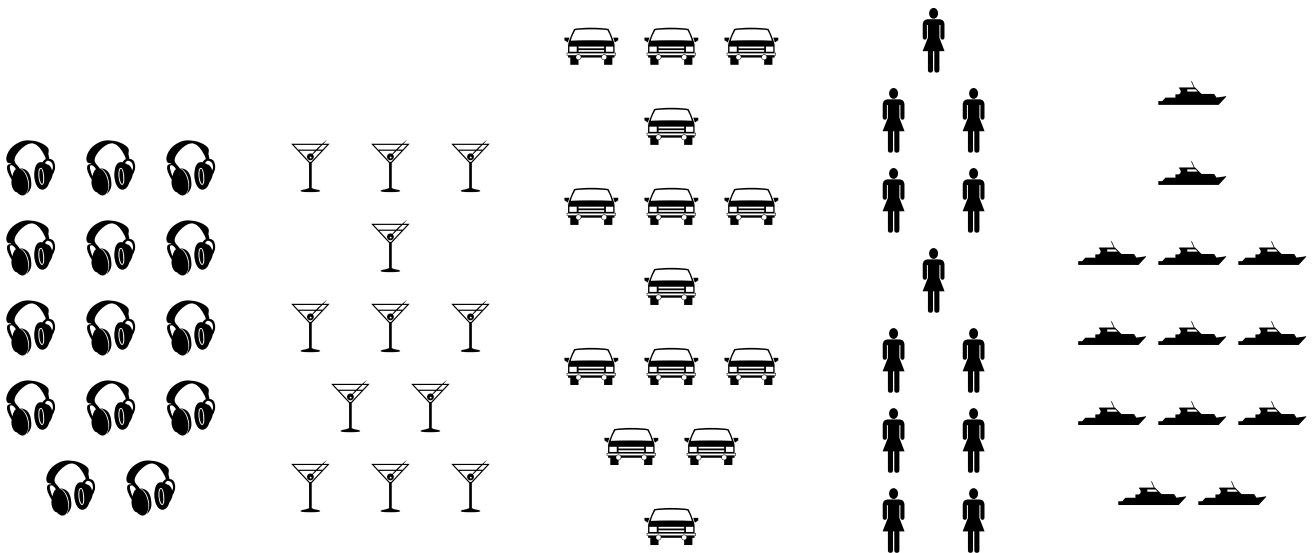
10

|  |  |  |  |  |  |  |  |  |  |  |  |  |  |  |
|--|--|--|--|--|--|--|--|--|--|--|--|--|--|--|
|  |  |  |  |  |  |  |  |  |  |  |  |  |  |  |
|--|--|--|--|--|--|--|--|--|--|--|--|--|--|--|

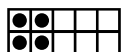
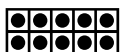
9

|  |  |  |  |  |  |  |  |  |  |  |  |  |  |  |
|--|--|--|--|--|--|--|--|--|--|--|--|--|--|--|
|  |  |  |  |  |  |  |  |  |  |  |  |  |  |  |
|--|--|--|--|--|--|--|--|--|--|--|--|--|--|--|

5. Entoure les collections qui ont 14 objets.



6. Ecris le nombre en lettres.



quatorze -