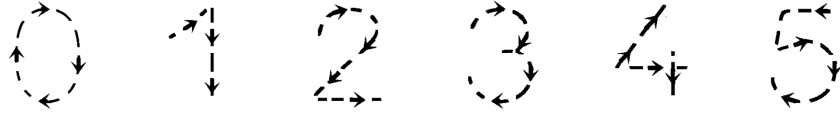


## Mathématiques

## Les nombres de 0 à 5

1. Repasser les nombres.



2. Dessiner les jetons dans chaque casier.

2


5


4


3


3. Compter et écrire le nombre de jetons.


●	●			
●	●			


●	●	●		
●	●			

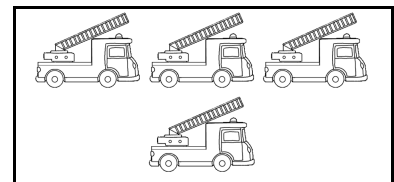
●				
●				

●				

4. Compter le nombre d'objets et complète.








5. Dessiner le nombre de balles.

4

3

5