

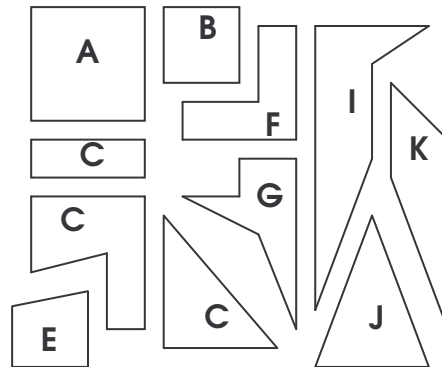
Polygones usuels

Evaluation


• Pour réaliser une couverture, Claire a découpé dans différents tissus des pièces qu'elle a numérotées.

⇒ Classe ces pièces dans le tableau ci-dessous.

Triangle	Quadrilatère	Pentagone	Hexagone	Autre



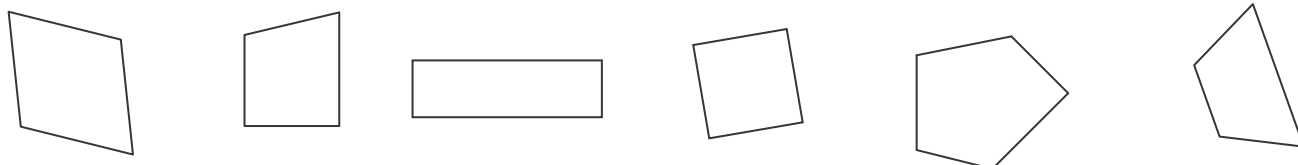
⇒ Claire s'est trompée, deux pièces ne conviennent pas. Lesquelles ?



.....

⇒ Claire a aussi oublié une pièce. Colorie cette pièce manquante sur la couverture.

• Colorie l'intrus. Justifie ta réponse.



C'est l'intrus car : _____

• Trace un triangle, un quadrilatère, un pentagone, un hexagone.

